



Simulare pentru EXAMENUL DE BACALAUREAT – Aprilie 2024

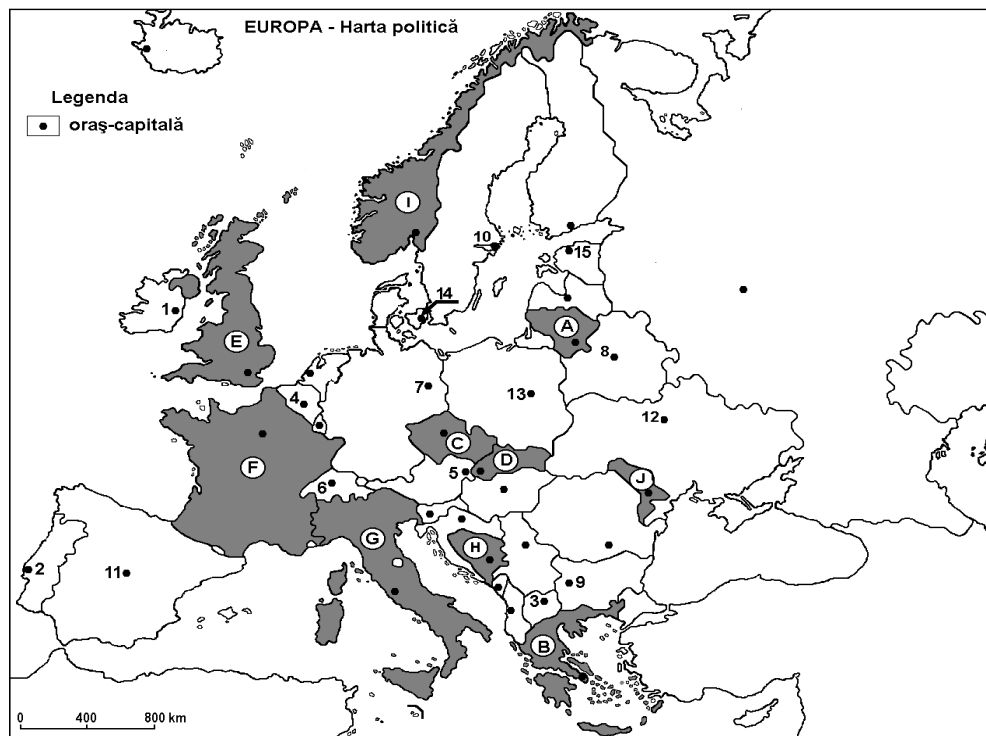
Proba E. d) – Geografie

Varianta 1

- Toate subiectele sunt obligatorii. Se acordă 10 puncte din oficiu.
- Timpul efectiv de lucru este de 3 ore.

**SUBIECTUL I**

**(30 puncte)**



Harta de mai sus se referă la subiectul I A – D. Pe hartă sunt marcate state cu litere și oraș-capitală cu numere.

A. Precizați:

1. numele statului marcat, pe hartă, cu litera **B**;
2. numele orașului-capitală marcată, pe hartă, cu numărul 7.

**4 puncte**

B. Scrieți, pe foaia de examen, răspunsurile corecte care completează afirmațiile de mai jos:

1. Orașul-capitală Madrid este marcat, pe hartă, cu numărul ...
2. Orașul marcat, pe hartă, cu numărul 12 este străbătut de fluviul ...
3. Țărm cu fiorduri sunt specifice statul marcat, pe hartă, cu litera ...

**6 puncte**

C. Scrieți, pe foaia de examen, litera corespunzătoare răspunsului corect pentru fiecare dintre afirmațiile de mai jos:

1. Orașul-capitală Dublin este marcat pe hartă, cu numărul:

- a. 1            b. 4            c. 14            d. 2

**2 puncte**

2. Capitala Poloniei este marcată cu cifra:

- a. 7            b. 13            c. 12            d. 11

**2 puncte**



3. Munții Apenini se desfășoară de-a lungul statului marcat pe hartă cu litera:  
**a. F                      b. E                      c. G                      d. I                      2 puncte**
4. Are ieșire la Marea Baltică statul marcat, pe hartă, cu litera:  
**a. A                      b. I                      c. E                      d. F                      2 puncte**
5. Insula Creta aparține statului marcat, pe hartă, cu litera:  
**a. F                      b. G                      c. B                      d. E                      2 puncte**

**D.** Precizați trei deosebiri între **clima** statului marcat, pe hartă, cu litera **E** și **clima** statului marcat, pe hartă, cu litera **J**.

*Nota 1: Deosebirile se pot referi la oricare dintre următoarele elemente de **climă**: factori genetici, tip de climă, temperaturi medii anuale/vara/iarna, amplitudine termică, precipitații medii anuale/vara/iarna, vânturi cu frecvență ridicată.*

*Nota 2: Punctajul complet va fi acordat numai dacă deosebirile vor fi prezentate comparativ și nu separat.*

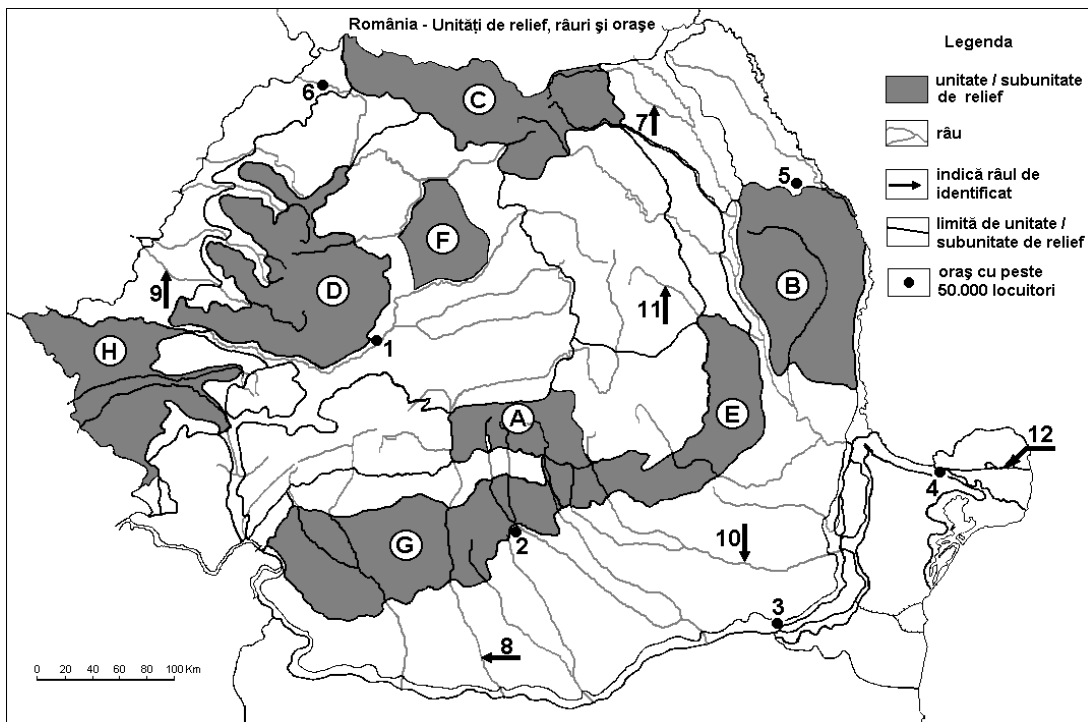
*Nota 3: Nu este necesară precizarea numelor statelor, se poate face referire la statele respective cu literele cu care sunt marcate pe hartă.*

**6 puncte**

- E. 1.** Prezentați o cauză care explică prezența reliefului glaciatic în Munții Alpi.  
**2.** Precizați numele a două unități de relief din statul marcat, pe hartă cu litera **F**. **4 puncte**

**SUBIECTUL II**

**(30puncte)**



Harta de mai sus se referă la subiectul II A – D. Pe hartă sunt marcate unități de relief culitere, râuri cu numere de la 7 la 12 și orașe cu numere de la 1 la 6. Precizați:

- 1.** numele orașului marcat, pe hartă, cu numărul 5 ;  
**2.** numele râului marcat, pe hartă, cu numărul 8 . **4 puncte**

**B.** Scrieți, pe foaia de examen, răspunsurile corecte care completează afirmațiile de mai jos:

- 1.** Munții Metaliferi sunt în unitatea marcată pe harta cu litera ...  
**2.** Brațul Dunării marcat, pe hartă, cu numărul 12, se numește ...



3. Influențe climatice scandinavo-baltice întâlnim în unitatea marcată cu litera....

6 puncte

C. Scrieți, pe foaia de examen, litera corespunzătoare răspunsului corect pentru fiecare dintre afirmațiile de mai jos:

1. Relief de vulcani noroioși întâlnim în unitatea de relief marcată, pe hartă cu litera:

a. G;      b. C      c. E;      d. D;      2 puncte

2. Lacuri glaciare există în unitatea de relief marcată, pe hartă, cu litera:

a. D;      b. E ;      c. G ;      d. A ;      2 puncte

3. Străbate Câmpia Bărăganului râul marcat, pe hartă, cu numărul:

a. 7 ;      b. 8 ;      c. 10;      d. 11;      2 puncte

4. Vegetație alpină întâlnim în unitatea marcată pe hartă cu litera:

a. G;      b. H;      c. A;      d. E;      2 puncte

5. Gaz metan, din domuri gazeifere, se exploatează în unitatea de relief marcată cu litera:

a. F;      b. D;      c. E ;      d. C;      2 puncte

D. Precizați trei deosebiri între **relieful** unității marcate, pe hartă, cu litera **B** și **relieful** unității marcate, pe hartă, cu litera **D**.

*Nota 1: Deosebirile se pot referi la oricare dintre următoarele aspecte ale reliefului: mod de formare, tipuri de roci pe care s-a format relieful, altitudini, gradul de fragmentare, tipuri genetice de relief, orientarea culmilor și a văilor principale, dispunerea depresiunilor, alte aspecte specifice ale reliefului.*

*Nota 2: Punctajul complet va fi acordat numai dacă cele trei deosebiri vor fi prezentate comparativ și nu separat.*

*Nota 3: Nu este necesară precizarea numelor unităților de relief, se poate face referire la unitățile de relief respective cu literele cu care sunt marcate pe hartă.*

6 puncte

E. 1. Prezentați două cauze care determină densitatea redusă a populației în Munții Carpați.

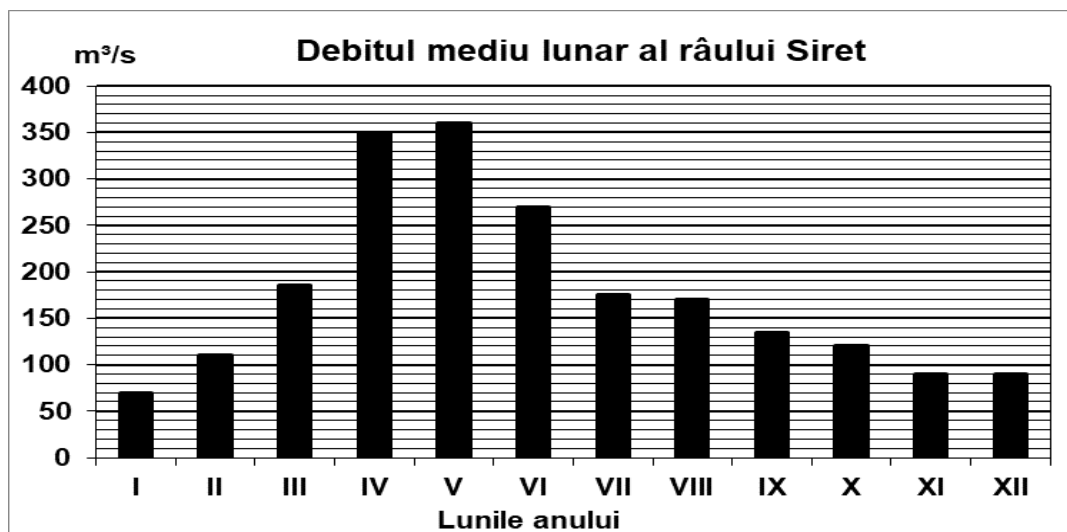
2. Precizați două resurse de subsol din unitatea de relief marcată, pe hartă cu litera E;

4 puncte

### SUBIECTUL III

(30 puncte)

Reprezentarea grafică de mai jos se referă la subiectele III A și B. Diagrama prezintă evoluția debitelor medii lunare ale râului Siret.



A. Precizați:

1. luna cu cel mai mare debit și valoarea acestuia;
2. luna cu cel mai mic debit și valoarea acestuia.



**4 puncte**

**B.** Scrieți, pe foaia de examen, răspunsul corect pentru fiecare dintre afirmațiile de mai jos:

1. Calculați diferența dintre debitul maxim și debitul minim.
2. Prezentați o cauză a debitului redus din perioada noiembrie-ianuarie.
3. Prezentați o cauză a creșterii debitului în luna aprilie.

**6 puncte**

**C.** Pentru **Italia**, precizați numele:

1. a două unități de relief;
2. a două țări cu care se învecinează;
3. unui tip climatic;
4. fluviului care traversează capitala
5. o mare la care are ieșire ;
6. trei orașe;

**10 puncte**

**D.** Tabelul de mai jos se referă la subiectul **III D** și prezintă altitudinea maximă a unor lanțuri montane din Europa.

**E.**

Lanțul montan	Alpi	Alpii Scandinaviei	Carpați	Pădurea Neagră	Pirinei	Ural
Altitudinea maximă	4807 m	2469 m	2655 m	1424 m	3404 m	1895 m

Precizați altitudinea maximă a munților formați în:

1. orogeneza alpină;
2. orogeneza hercinică;
3. .orogeneza caledoniană/caledonică.

**6 puncte**

**E. 1.** Precizați numele a două state membre fondatoare ale Uniunii Europene.

**2 puncte**

2. Precizați numele a două state care au fost admise în Uniunea Europeană în anul 2007.

**2 puncte**

**SUCCESI!**