

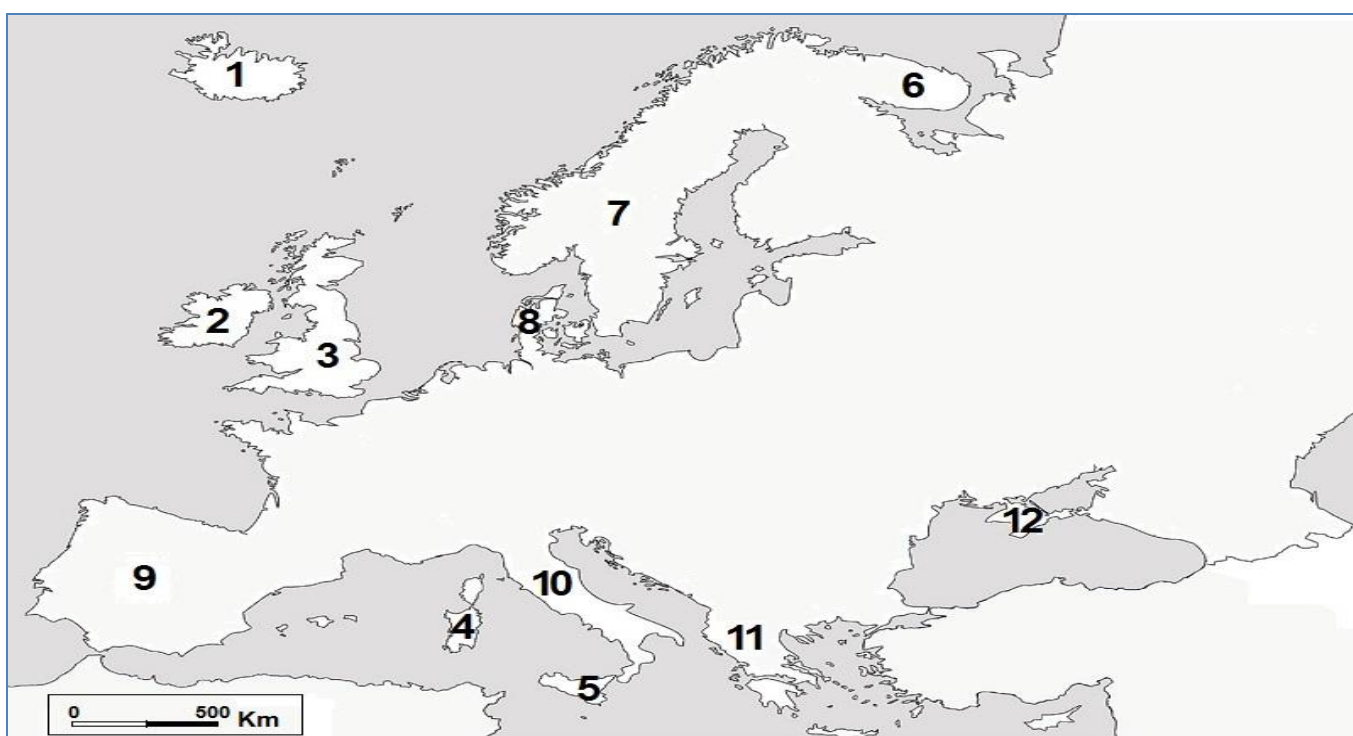
EXAMENUL DE BACALAUREAT- 2024

Simulare județeană
Proba E. d) Geografie

Profilul umanist din filiera teoretică, profilul servicii din filiera tehnologică și toate profilurile și specializările din filiera vocațională, cu excepția profilului militar.

- Toate subiectele sunt obligatorii. Se acordă zece puncte din oficiu.
- Timpul efectiv de lucru este de trei ore.

Varianta 2

SUBIECTUL I**(30 de puncte)**

Harta alăturată se referă la subiectul I A – E. Pe hartă sunt marcate peninsule și insule.

A. Precizați:

1. cifra cu care este marcată peninsula în care se găsesc Munții Balcani;
2. numele unui fluviu din cadrul insulei marcate, pe hartă, cu numărul 3.

4 puncte**B. Scrieți, pe foaia de examen, răspunsurile corecte care completează afirmațiile de mai jos:**

1. Munții situați în peninsula marcată, pe hartă, cu numărul 7 se numesc...
2. Insula marcată, pe hartă, cu numărul 2 are un climat de tip ...
3. Cel mai mare lac tectonic situat în Europa Centrală, în Câmpia Panonică este ...

6 puncte**C. Scrieți, pe foaia de examen, litera corespunzătoare răspunsului corect pentru fiecare dintre afirmațiile de mai jos:**

1. Predomină un relief de câmpie în peninsula marcată, pe hartă, cu numărul:

a. 11 b. 8 c. 9 d. 12

2 puncte

2. În peninsula marcată, pe hartă, cu numărul 9 se găsesc munții:

a. Pirinei b. Alpi c. Balcani d. Penini

2 puncte

3. Munți formați în orogeneza caledoniană se găsesc în insula marcată, pe hartă, cu numărul:
- a. 1 b. 3 c. 4 d. 5 2 puncte
4. Peninsula marcată, pe hartă, cu numărul 9 este străbătută de fluviul:
- a. Duero b. Peciora c. Vistula d. Sena 2 puncte
5. Vântul caracteristic peninsulei marcate, pe hartă, cu numărul 11 este:
- a. Mistralul b. Austrul c. Crivățul d. Vântul de Vest 2 puncte

D. Precizați trei deosebiri între clima peninsulei marcate, pe hartă, cu numărul 7 și clima peninsulei marcate, pe hartă, cu numărul 10.

Nota 1: Deosebirile se pot referi la oricare dintre următoarele elemente de climă: factori genetici, tip de climă, temperaturi medii anuale/vara/iarna, amplitudine termică, precipitații medii anuale/vara/iarna, vânturi cu frecvență ridicată.

Nota 2: Punctajul complet va fi acordat numai dacă deosebirile vor fi prezentate comparativ și nu separate.

Nota 3: Nu este necesară precizarea numelor peninsulelor; se poate face referire la peninsulele respective cu numerele cu care sunt marcate pe hartă.

6 puncte

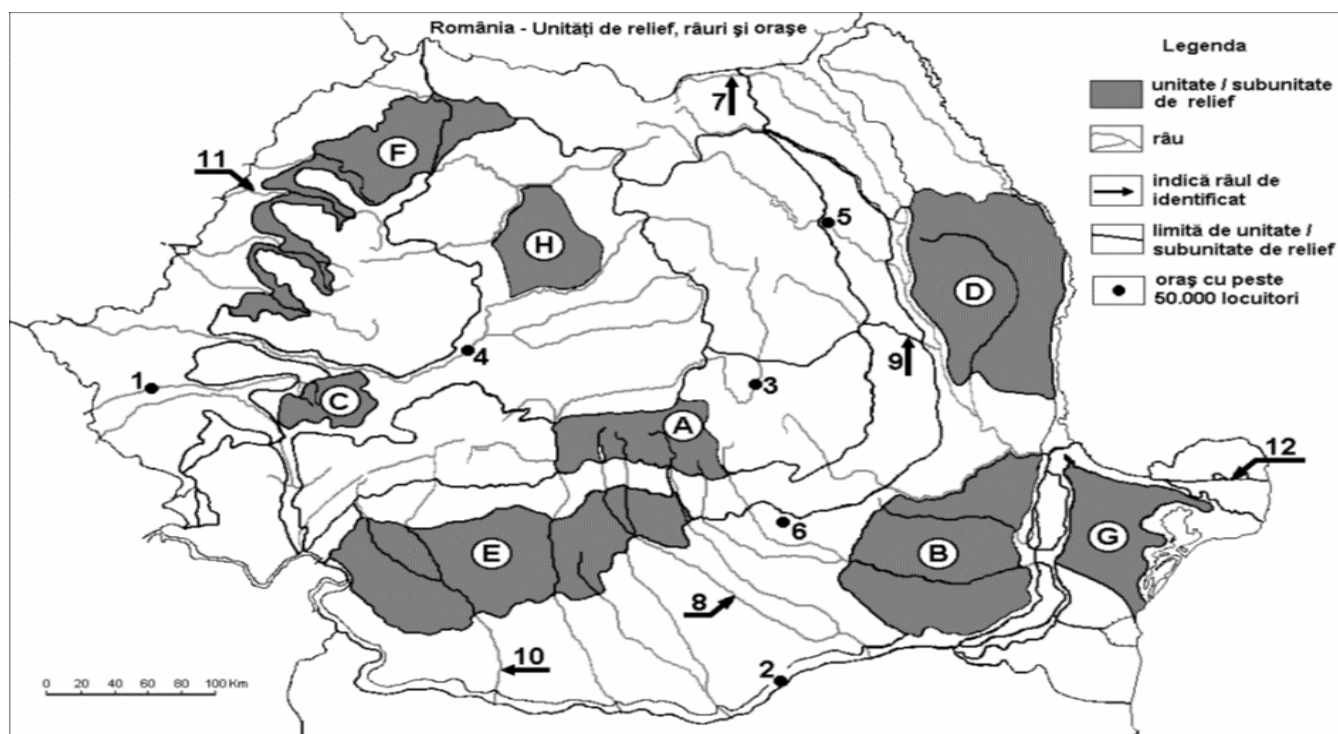
E.

- Explicați prezența lacurilor glaciare în câmpiile din nordul Europei.
- Precizați numele a două fluvii din peninsula marcată, pe hartă, cu numărul 9.

4 puncte

SUBIECTUL al II-lea

(30 de puncte)



Harta de mai sus se referă la subiectul II A – D.

Pe hartă sunt marcate unități de relief cu litere, orașe cu cifre de la 1 la 6 și râuri cu cifre de la 7 la 12.

A. Precizați:

- numele subunității de relief marcate, pe hartă, cu litera D;
- numele râului marcat, pe hartă, cu numărul 8.

4 puncte

B. Scrieți, pe foaia de examen, răspunsurile corecte care completează afirmațiile de mai jos:

1. Râul marcat, pe hartă, cu numărul **9** se numește ...
 2. Cel mai înalt vârf din România se găsește pe teritoriul subunității de relief marcate, pe hartă, cu litera...
 3. Subunitatea de relief marcată, pe hartă, cu litera **B** se numește ...
- 6 puncte**

C. Scrieți, pe foaia de examen, litera corespunzătoare răspunsului corect pentru fiecare dintre afirmațiile de mai jos:

1. Râul marcat, pe hartă, cu numărul **11** se numește:
a. Barcău b. Crișul Alb c. Crișul Negru d. Crișul Repede **2 puncte**
2. Orașul marcat, pe hartă, cu numărul **5** este străbătut de râul:
a. Bistrița b. Jijia c. Moldova d. Siret **2 puncte**
3. Relief glaciar există în subunitatea de relief marcată, pe hartă, cu litera:
a. A b. C c. F d. H **2 puncte**
4. Râul marcat, pe hartă, cu numărul **7** se numește:
a. Bistrița b. Suceava c. Trotuș d. Siret **2 puncte**
5. Subunitatea de relief marcată, pe hartă, cu litera **H** se numește:
a. Podișul Someșan b. Câmpia Transilvaniei c. Podișul Târnavelor d. Dealul Feleacului **2 puncte**

D. Precizați trei deosebiri între **relieful** subunității marcate, pe hartă, cu litera **C** și **relieful** subunității marcate, pe hartă, cu litera **G**.

Nota 1: Deosebirile se pot referi la oricare dintre următoarele aspecte ale reliefului: mod de formare, tipuri de roci pe care s-a format relieful, altitudini, fragmentare, tipuri de relief, înclinare, alte aspecte specifice ale reliefului.

Nota 2: Punctajul complet va fi acordat numai dacă cele trei deosebiri vor fi prezentate comparativ și nu separat.

Nota 3: Nu este necesară precizarea numelor unităților de relief, se poate face referire la unitățile de relief respective cu literele cu care sunt marcate pe hartă.

6 puncte

E. Prezentați:

1. o cauză care determină numărul mare de zile cu viscol din sud-estul României.
2. două cauze care au determinat formarea Deltei Dunării.

4 puncte

SUBIECTUL al III-lea

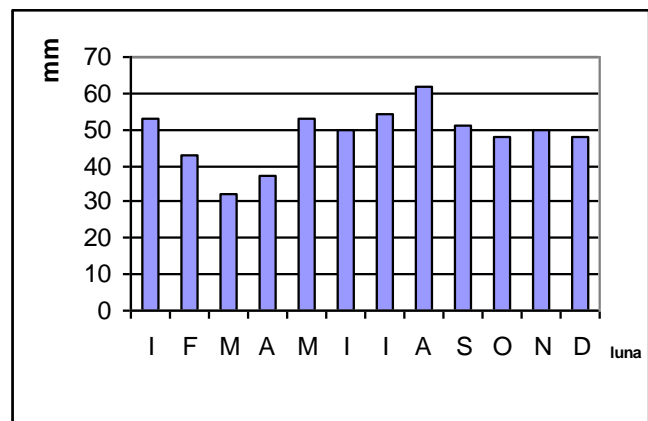
(30 puncte)

A. Analizați reprezentarea grafică alăturată pe care sunt marcate valorile medii lunare ale cantității de precipitații la Paris.

Precizați:

- a) valoarea minimă lunară a cantității de precipitații, precum și luna în care se înregistrează;
- b) valoarea maximă lunară a cantității de precipitații, precum și luna în care se înregistrează;
- c) valoarea cantității de precipitații a lunii iunie;
- d) valoarea amplitudinii pluviometrice anuale.

4 puncte



B. Precizați:

1. doi factori care influențează cantitatea de precipitații;
2. denumirea tipului de climă specific Europei de Vest;
3. denumirea unui vânt care se resimte în vestul Europei;

6 puncte

C. Pentru **Peninsula Italică**, precizați:

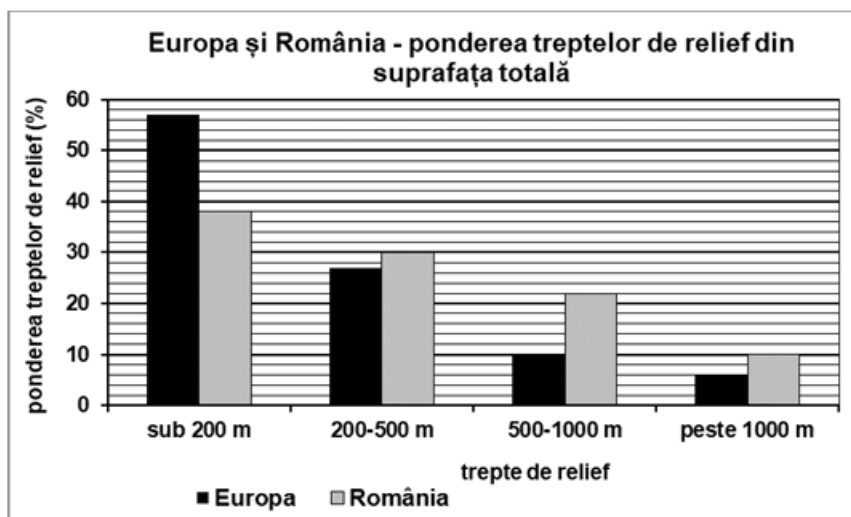
1. denumirea unei câmpii;
2. numele a două unități montane;
3. denumirea unui vulcan;
4. denumirea a două fluvii;
5. numele unei mări care o delimitează;
6. denumirea unui tip de climă specific;
7. numele unui vânt caracteristic.

10 puncte

D. Reprezentarea grafică alăturată prezintă ponderea (%) treptelor de relief în Europa și în România (valorile au fost rotunjite).

Precizați:

1. Care este treapta de relief cu cea mai mare suprafață la nivelul continentului european și valoarea acesteia.
2. Care este treapta de relief cu cea mai mică suprafață la nivelul țării noastre și valoarea acesteia.
3. Calculați ponderea (%) treptelor de relief cu altitudine sub 500 m în România.



6 puncte

E. Precizați:

1. Doi factori care influențează debitul fluviului Dunărea.
2. O consecință climatică a diferenței de latitudine dintre cel mai sudic și cel mai nordic punct al României.

4 puncte