

Simularea Examenului Național de Bacalaureat  
Proba E.d) Geografie  
29 Noiembrie 2023

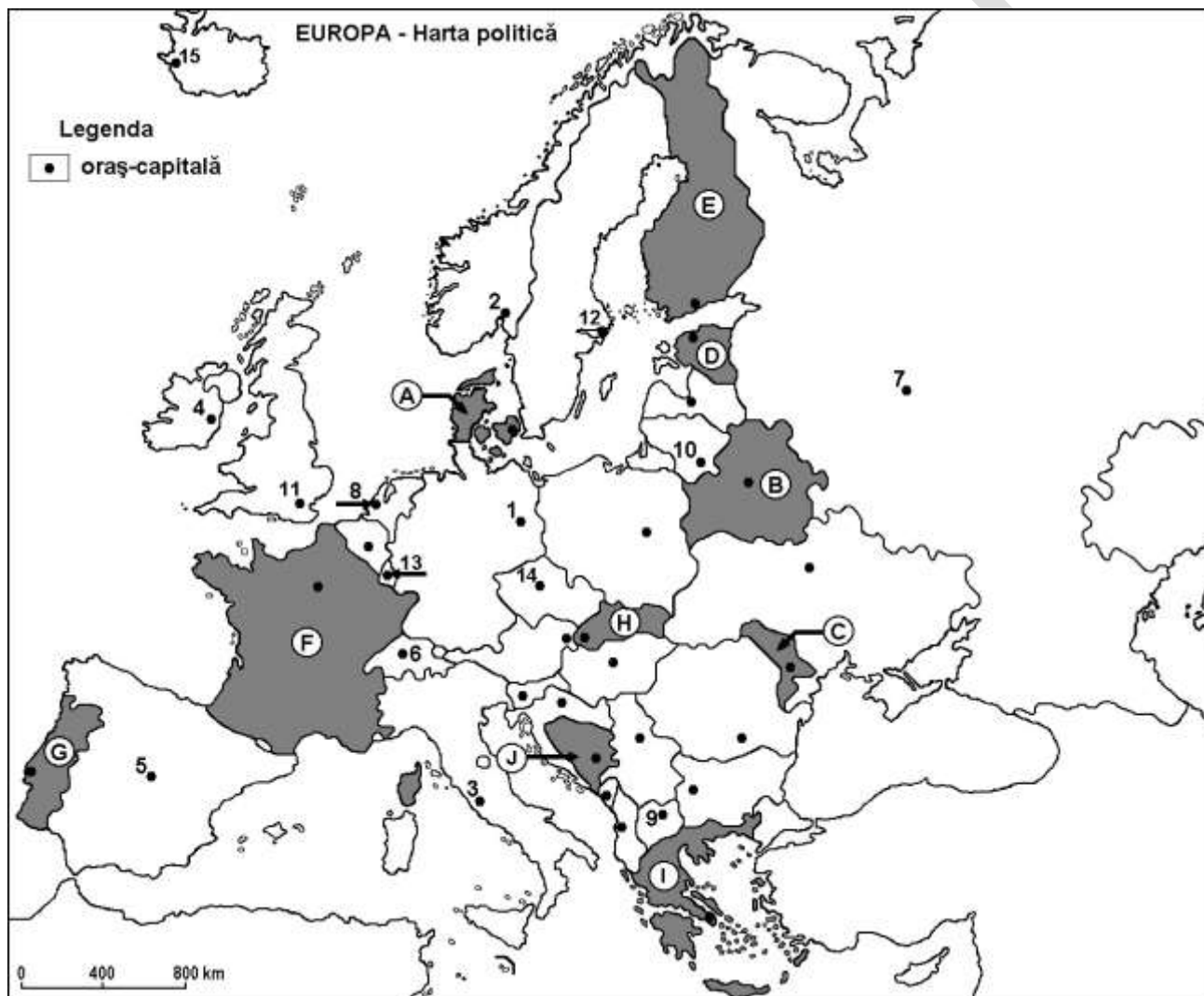
*Profilul umanist din filiera teoretică, profilul servicii din filiera tehnologică și toate profilurile și specializările din filiera vocațională, cu excepția profilului militar*

- Toate subiectele sunt obligatorii. Se acordă zece puncte din oficiu.
- Timpul efectiv de lucru este de trei ore.

Varianta 1

**Subiectul I**

**(30 de puncte)**



Harta de mai sus se referă la subiectul I A – E. Pe hartă sunt marcate state cu litere și orașe capitală cu numere.

A. Precizați:

1. numele statelor marcate, pe hartă, cu literele C și I;
2. numele orașelor-capitală marcate, pe hartă, cu numerele 3 și 11.

**4 puncte**

B. Scrieți, pe foaia de examen, răspunsurile corecte care completează afirmațiile de mai jos:

1. Munții Pirinei se află pe teritoriul statului marcat, pe hartă, cu litera ...
2. Insula Creta aparține statului marcat, pe hartă, cu litera ...
3. Punctul extrem vestic al continentului european se află în statul marcat, pe hartă, cu litera ...

**6 puncte**

## INSPECTORATUL ȘCOLAR JUDEȚEAN BUZĂU

**C.** Scrieți, pe foaia de examen, litera corespunzătoare răspunsului corect pentru fiecare dintre afirmațiile de mai jos:

1. Este situat în Peninsula Iutlanda, o mare parte din teritoriul statului marcat, pe hartă, cu litera:
 

a. A	b. E	c. G	d. I	<b>2 puncte</b>
------	------	------	------	-----------------
2. Alpii Dinarici se află în statul marcat, pe hartă, cu litera:
 

a. F	b. G	c. H	d. J	<b>2 puncte</b>
------	------	------	------	-----------------
3. Are deschidere la Marea Baltică statul marcat, pe hartă, cu litera:
 

a. D	b. F	c. G	d. I	<b>2 puncte</b>
------	------	------	------	-----------------
4. Climatul temperat continental este specific statului marcat, pe hartă, cu litera:
 

a. A	b. C	c. G	d. I	<b>2 puncte</b>
------	------	------	------	-----------------
5. Se desfășoară pe teritoriul a opt state din Europa munții:
 

a. Alpi	b. Balcani	c. Carpați	d. Pirinei	<b>2 puncte</b>
---------	------------	------------	------------	-----------------

**D.** Precizați trei asemănări între **clima** statului marcat, pe hartă, cu litera **F** și **clima** statului marcat, pe hartă, cu litera **G**.

**Nota 1:** Asemănările se pot referi la oricare dintre următoarele elemente de climă: factori genetici, tip de climă, temperaturi medii anuale/vara/iarnă, amplitudine termică, precipitații medii anuale/vara/iarnă, vânturi cu frecvență ridicată, alte aspecte climatice.

**Nota 2:** Punctajul complet va fi acordat numai dacă asemănările vor fi prezentate comparativ și nu separat.

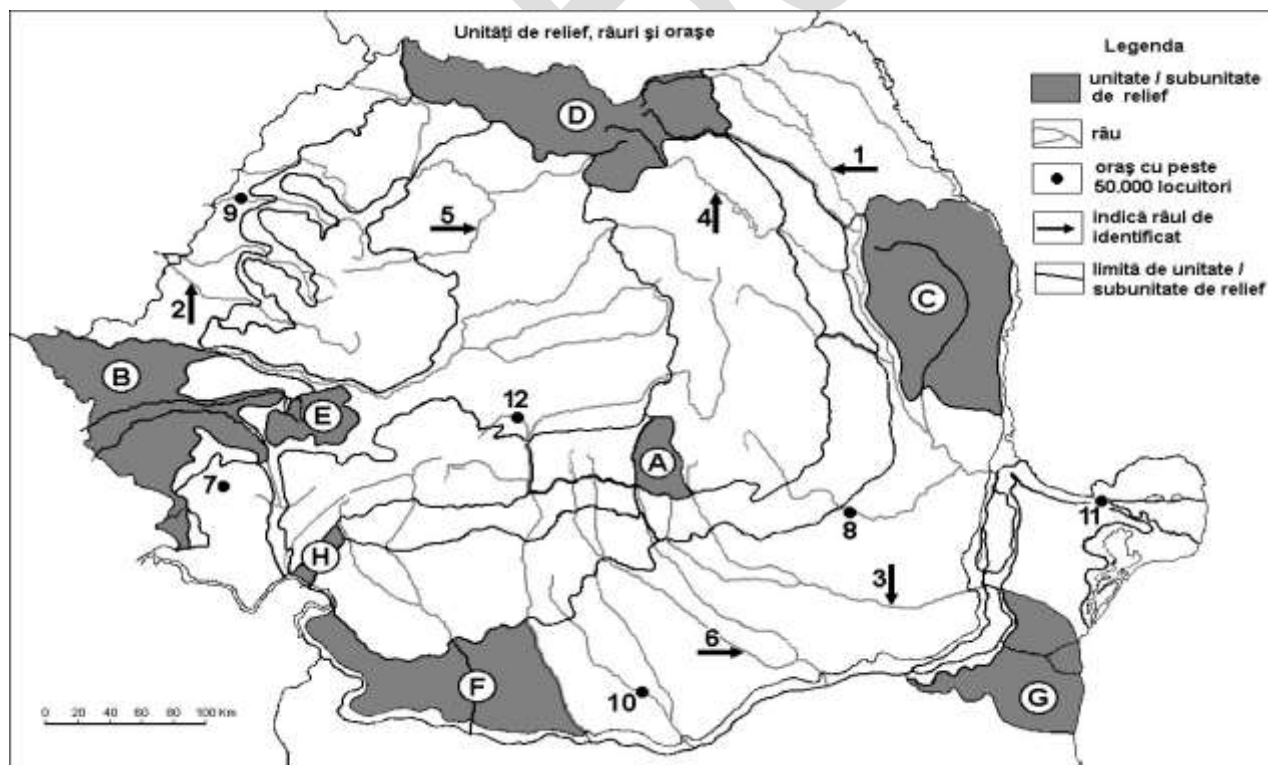
**Nota 3:** Nu este necesară precizarea numelor statelor, se poate face referire la statele respective cu literele cu care sunt marcate pe hartă. **6 puncte**

**E.1.** Precizați o cauză care explică vulcanismul activ din spațiul Mării Mediteraneene.

2. Prezentați o cauză a prezenței ghețarilor actuali în munții Alpi. **4 puncte**

### SUBIECTUL al II-lea

**(30 de puncte)**



Harta de mai sus se referă la subiectele II A– E. Pe hartă sunt marcate unități de relief cu litere, râuri cu numere de la 1 la 6 și orașe cu numere de la 7 la 12.

**A.** Precizați:

1. numele unităților de relief marcate, pe hartă, cu literele **E** și **G**;

## INSPECTORATUL ȘCOLAR JUDEȚEAN BUZĂU

2. litera corespunzătoare unității de relief marcată, pe hartă, în care se află punctul extrem vestic al României. **4 puncte**

**B.** Scrieți, pe foaia de examen, răspunsurile corecte care completează afirmațiile de mai jos:

1. Roci variate (vulcanice, metamorfice, sedimentare) dispuse pe trei fâșii paralele sunt în unitatea de relief marcată, pe hartă, cu litera .....
2. România are o graniță în totalitate naturală cu statul numit ...
3. Babele și Sfinxul se găsesc în unitatea de relief marcată, pe hartă, cu litera ...

**6 puncte**

**C.** Scrieți, pe foaia de examen, litera corespunzătoare răspunsului corect pentru fiecare dintre afirmațiile de mai jos:

1. Reprezintă un baraj orografic pentru țara noastră elementul geografic numit:  
a. Carpați                      b. Dunăre                      c. Marea Caspică                      d. Marea Neagră                      **2 puncte**
2. Este acoperită cu un strat gros de loess unitatea de relief marcată, pe hartă, cu litera:  
a. A                                  b. E                                  c. G                                  d. H                                  **2 puncte**
3. Face parte din Podișul Moldovei unitatea de relief marcată, pe hartă, cu litera:  
a. B                                  b. C                                  c. E                                  d. F                                  **2 puncte**
4. Relieful glaciatic este prezent în unitatea de relief marcată, pe hartă, cu litera:  
a. C                                  b. B                                  c. D                                  d. H                                  **2 puncte**
5. Dune de nisip se găsesc în unitatea de relief marcată, pe hartă, cu litera:  
a. A                                  b. D                                  c. E                                  d. F                                  **2 puncte**

**D.** Precizați două deosebiri și o asemănare între relieful unității marcate, pe hartă, cu litera **C** și relieful unității marcate, pe hartă, cu litera **F**.

**Nota 1:** Deosebirile și asemănarea se pot referi la oricare dintre următoarele aspecte ale reliefului: mod de formare, tipuri de roci pe care s-a format relieful, altitudinile, gradul de fragmentare, trepte de relief, tipuri genetice de relief, orientarea culmilor și a văilor principale, dispunerea depresiunilor, alte aspecte specifice ale reliefului.

**Nota 2:** Punctajul complet va fi acordat numai dacă cele două deosebiri și asemănarea vor fi prezentate comparativ și nu separat.

**Nota 3:** Nu este necesară precizarea numelor unităților de relief, se poate face referire la unitățile de relief respective cu literele cu care sunt marcate pe hartă. **6 puncte**

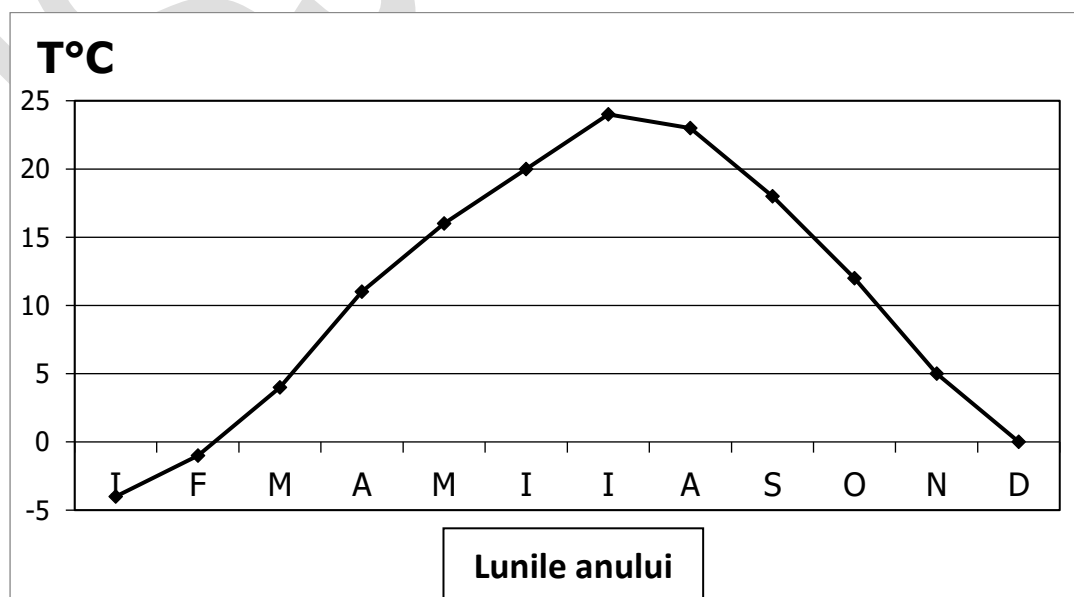
**E.1.** Prezentați un factor care conduce la apariția alunecărilor de teren în Subcarpații Curburii.

2. Menționați o cauză care să explice diferența de temperatură medie anuală între sudul și nordul țării. **4 puncte**

### **SUBIECTUL al III-lea**

**(30 de puncte)**

Reprezentarea grafică de mai jos se referă la subiectul III A - B și prezintă evoluția temperaturii medii lunare ale aerului la o stație meteorologică din Câmpia Română.



## INSPECTORATUL ȘCOLAR JUDEȚEAN BUZĂU

**A.** Scrieți pe foaia de examen:

1. valoarea maximă a temperaturii medii lunare, precum și luna în care se înregistrează;
2. valoarea minimă a temperaturii medii lunare, precum și luna în care se înregistrează.

**4 puncte**

**B.** Precizați:

1. modul de calcul al temperaturii medii anuale;
2. valoarea amplitudinii termice medii anuale;
3. un factor natural care influențează variația temperaturii medii lunare.

**6 puncte**

**C.** Pentru **Bulgaria**, precizați:

1. numele a două state vecine;
2. numele a unei mări la care are ieșire;
3. numele a două unități montane;
4. două tipuri de climă;
5. numele fluviului ce constituie un segment de graniță cu România;
6. numele orașului capitală;
7. numele a două organizații, militară și economică, la care a aderat alături de România.

**10 puncte**

**D.** Tabelul alăturat prezintă lungimea granițelor vecinilor României.

Republica Moldova	681 km
Ucraina	649 km
Bulgaria	631 km
Serbia	546 km
Ungaria	448 km
Marea Neagra	245 km

Sursa datelor: [https://ro.wikipedia.org/wiki/Pagina\\_principal%C4%83](https://ro.wikipedia.org/wiki/Pagina_principal%C4%83)

Precizați:

1. Numele statului vecin cu cea mai mare lungime a graniței și valoarea acesteia.
2. Numele statului vecin cu cea mai mică lungime a graniței și valoarea acesteia.
3. Numele a două state vecine cu care România are graniță naturală Dunărea.

**6 puncte**

**E.** 1. Prin poziția sa geografică, România este o țară pontică. Menționați două consecințe care decurg din această situație.

2. Precizați două cauze care determină distribuția neuniformă a precipitațiilor medii anuale în Europa.

**4 puncte**