



**EVALUAREA COMPETENȚELOR FUNDAMENTALE  
LA FINALUL CLASEI a II-a  
2023**

**Test 2**

**MATEMATICĂ**

**Județul / sectorul.....**

**Localitatea.....**

**Școala.....**

**Numele și prenumele elevei / elevului.....**

.....

**Clasa a II-a.....**

**Băiat**

**Fată**








5. Irina a pregătit, pentru colegii săi, 21 de fotografii cu elefanți și de 3 ori mai puține fotografii cu iepuri. Câte fotografii cu iepuri a pregătit Irina?

**Calculează prin scădere repetată a aceluiași număr.**

**Scrie, pe spațiul dat, rezolvarea problemei.**



Nu se completează de către elev  
COD

5.

6. Cosmin le-a prezentat colegilor săi o planșă cu câteva informații despre girafă.

**Cu ce figură geometrică se aseamănă planșa realizată de Cosmin?**

**Încercuiește litera corespunzătoare răspunsului corect.**

- a) cerc
- b) dreptunghi
- c) pătrat
- d) triunghi






**Girafa este cea mai înaltă dintre toate speciile de animale. Masculii pot avea între 4,8 m și 5,5 m înălțime și o greutate de 900 de kg. Numele ei înseamnă „cea mai înaltă dintre toate”. Girafa trăiește în Africa.**

Nu se completează de către elev  
COD

6.

7. Pentru a se juca, Maria a așezat fotografiile cu animalele preferate ca în șirul de mai jos. Ce fotografii urmează în șir?

**Încercuiește litera corespunzătoare răspunsului corect.**



Nu se completează de către elev  
COD

7.

8. Vlad a ales 15 fotografii cu animalele sale preferate și a dat câte 3 fotografii prietenilor săi. Câți copii au primit fotografii?

**Încercuiește litera corespunzătoare răspunsului corect.**

- a) 3 copii
- b) 5 copii
- c) 12 copii
- d) 18 copii

Nu se completează de către elev  
COD

8.

9. Irina le-a arătat celorlalți copii fotografia de mai jos, în care este prezentat un arici, animalul său preferat. În ce parte a fotografiei se află ariciul?

**Încercuiește litera corespunzătoare răspunsului corect.**

- a) în dreapta jos
- b) în dreapta sus
- c) în stânga jos
- d) în stânga sus




Nu se completează de către elev  
COD

9.

10. Fiecare copil a lipit câte o imagine cu animalul preferat pe cartonașe de forme diferite.

**Scrive, în spațiul dat, numele formei geometrice pe care o are cartonașul pe care este lipită imaginea cu un iepure.**



**Cartonașul pe care este lipită imaginea cu un iepure are formă de \_\_\_\_\_ .**

Nu se completează de către elev  
COD

10.

