



**EVALUAREA COMPETENȚELOR FUNDAMENTALE
LA FINALUL CLASEI a II-a
2017**

Test 2

MATEMATICĂ

Județul / sectorul.....

Localitatea.....

Școala.....

Numele și prenumele elevei / elevului.....





.....

Clasa a II-a.....

Băiat

Fată

Elevii clasei a II-a iubesc natura, așa că împreună cu doamna învățătoare au pornit într-o drumeție prin pădure, ca să descopere tainele insectelor. Au admirat florile multicolore și au privit insectele. La sfârșitul zilei, și-au notat pe cartonașe numărul insectelor întâlnite. Numărul acestora este scris în tabelul de mai jos. Doamna învățătoare le-a pregătit elevilor câteva bilețele cu întrebări.

			
79 de buburuze	149 de fluturi	300 de libelule	45 de albine

1. Câte **buburuze** și **libelule** ați întâlnit în total prin pădure? scrie pe un bilețel.
Încercuiește și tu litera corespunzătoare răspunsului corect.

- a) 124
- b) 228
- c) 345
- d) 379

Nu se completează de către elev
COD

1.


2. Alexandru are de comparat numărul **fluturilor** cu numărul **libelulelor**.
Scrive și tu, în căsuța de mai jos, unul dintre semnele <, =, > pentru ca relația să fie corectă.

149 300

Nu se completează de către elev
COD

2.




7. Maria a numărat 4 libelule, iar Andreea de 6 ori mai multe.
Marius trebuie să calculeze câte libelule a numărat Andreea.
Scrive și tu, pe spațiul dat, rezolvarea problemei.



Nu se completează de către elev
COD

7.

8. Copiii au lipit imagini cu insectele văzute pe cartonașe.
Cu ce formă geometrică seamănă cartonașul pe care este lipit fluturele?
Încercuiește litera corespunzătoare răspunsului corect.



- a) cerc
- b) dreptunghi
- c) pătrat
- d) triunghi


Nu se completează de către elev
COD

8.

9. Cristina are de calculat cu cât este mai mare numărul fluturilor decât numărul albinelor. Ea a scris următorul exercițiu: $149 - 45 = 104$.

Verifică tu, prin operație inversă, dacă a calculat corect Cristina.

Scrie, pe spațiul dat, verificarea exercițiului.




Nu se completează de către elev
COD

9.

10. Andrei a realizat un tablou folosind figuri geometrice.

Câte triunghiuri și câte cercuri a folosit el pentru realizarea soarelui?

Încercuiește litera corespunzătoare răspunsului corect.



- a) 5 triunghiuri și 2 cercuri;
- b) 6 triunghiuri și 1 cerc;
- c) 7 triunghiuri și 1 cerc;
- d) 8 triunghiuri și 2 cercuri.

Nu se completează de către elev
COD

10.

11. Radu a avut de numărat din doi în doi fluturii pe care i-a văzut în pădure.
Ajută-l să continue numărarea.
Scrive și tu, în casetele goale, aceste numere.

36

40

46

Nu se completează de către elev
COD

11.

12. La final, băieții s-au așezat câte 3 pe 5 rânduri. Sunt ei suficienți pentru a dansa cu cele 15 de fete, astfel încât să formeze câte o pereche?
Explică, pe spațiul dat, răspunsul tău.

Da, pentru că _____

Nu, pentru că _____

Nu se completează de către elev
COD

12.

FELICITĂRI, AI AJUNS LA SFÂRȘITUL TESTULUI!
MULȚUMIM PENTRU PARTICIPARE!